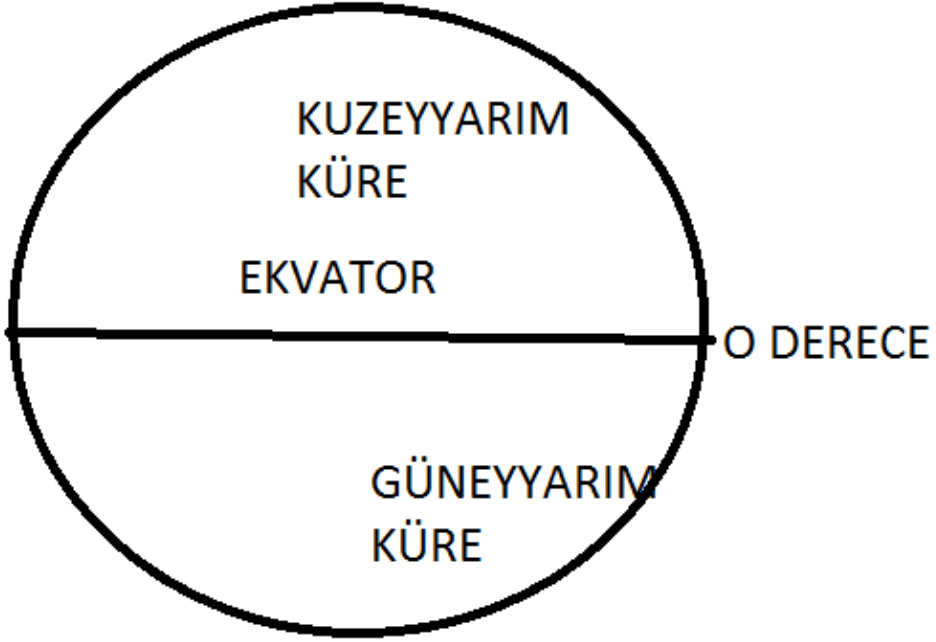
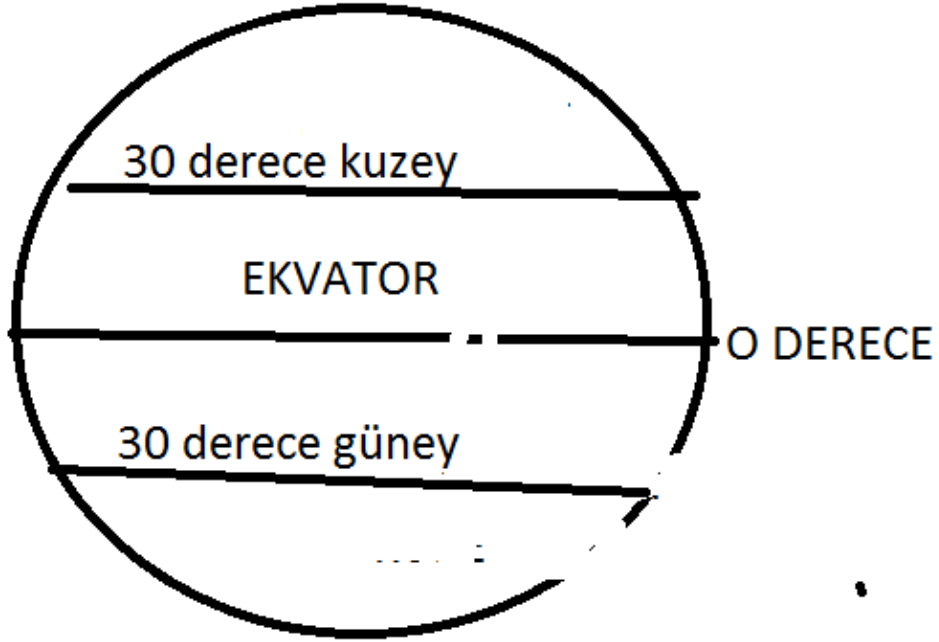


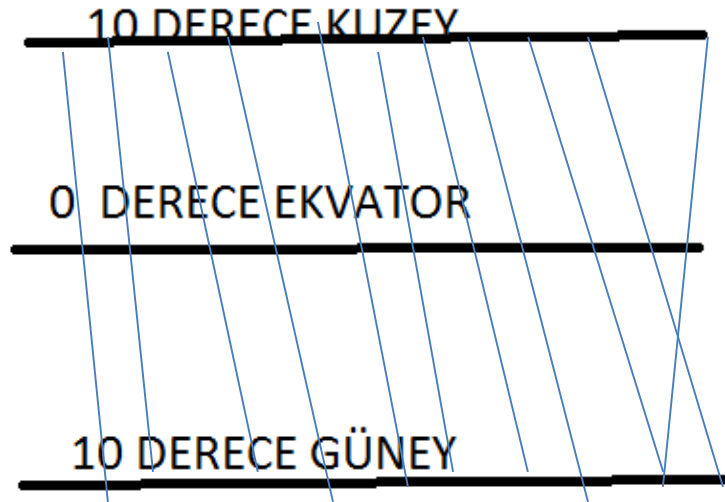
KOORDINAT SISTEMI

- PARALEL DEYİNCE YATAY ÇİZGİ ANLAŞILIR.

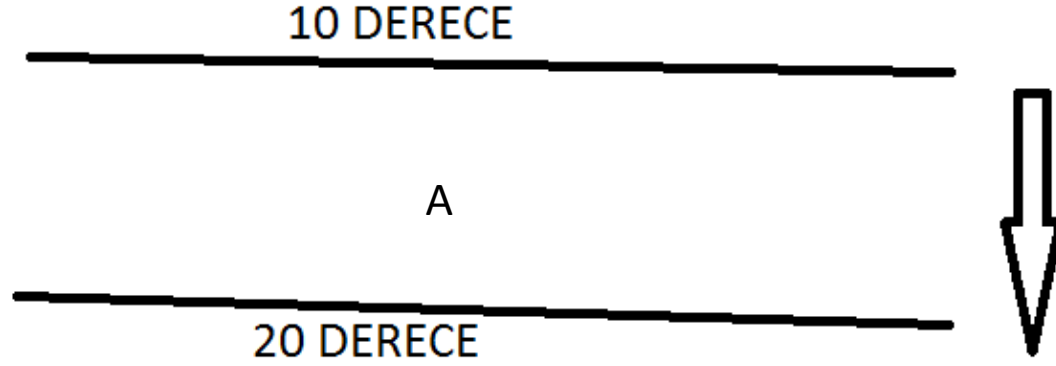




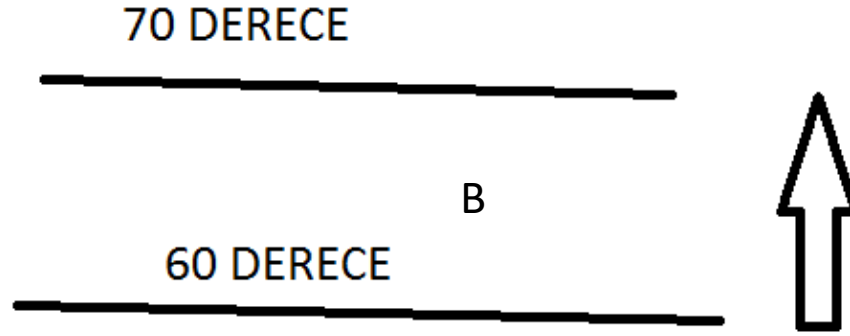




Bu Alan taralı alan olsa olduđu gibi 10 derece kuzey paraleli ile 10 derece güney paraleli arasında yer alır.



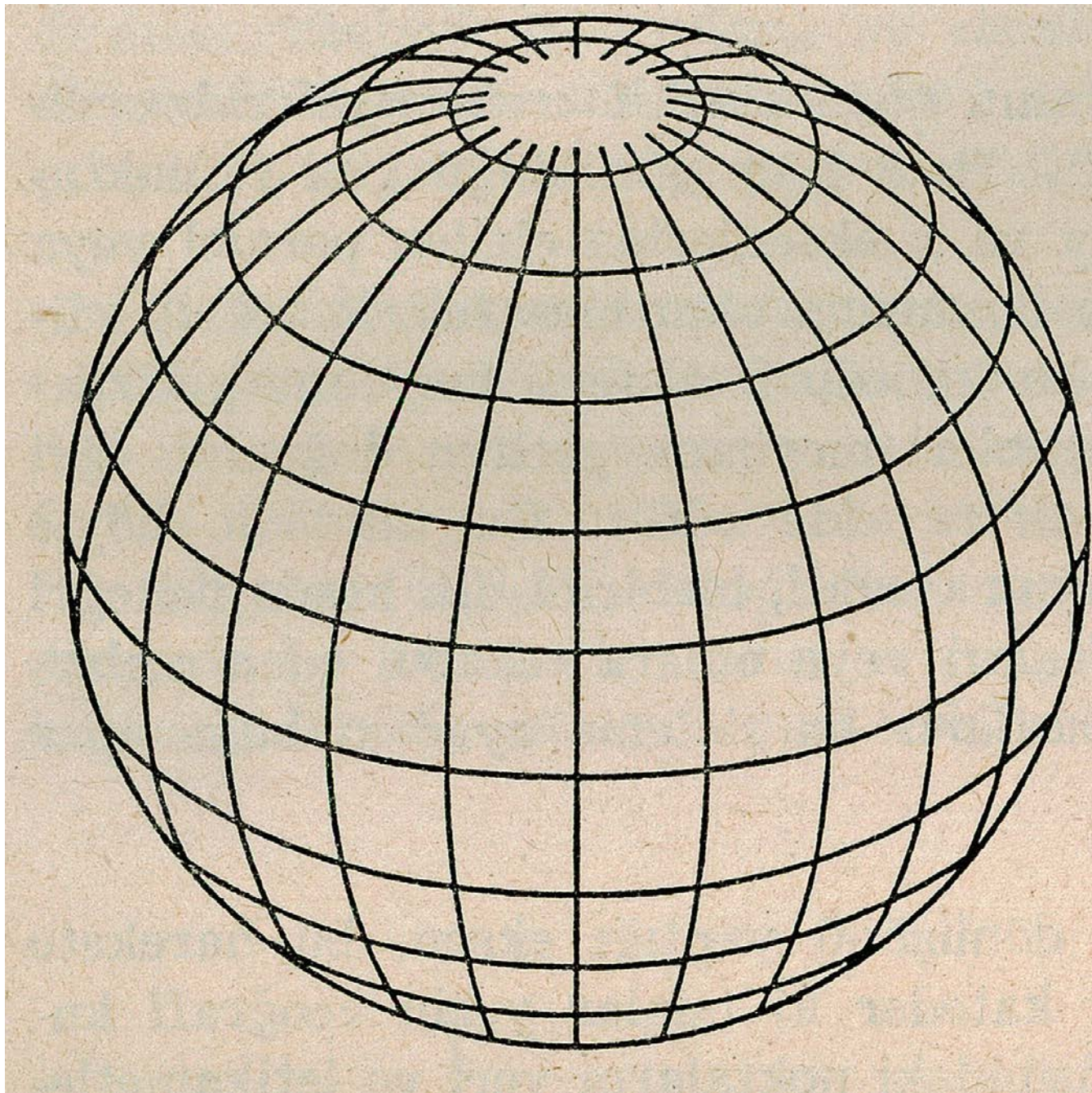
PARALELLERİN NUMARALARI AŞAĞI GİDİLDİKÇE
BÜYÜDÜĞÜNE GÖRE 10 DERECE İLE 20 DERECE GÜNEY
PARALELİ ARASINDA YER ALIR.



PARALEL NUMARALARI YUKARI ÇIKILDIKÇA BÜYÜDÜĞÜNE GÖRE KUZEYYARIMKÜREDE VE 60 DERECE İLE 70 DERECE KUZEY PARALELLERİ ARASINDA YER ALIR.


- MERİDYEN DEYİNCE DİKEY ÇİZGİ ANLAŞILIR.



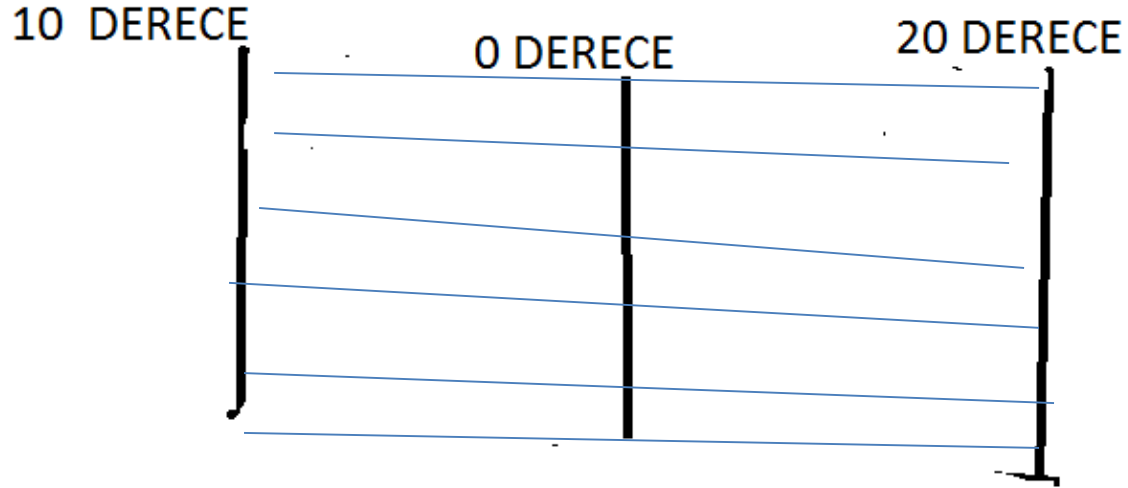




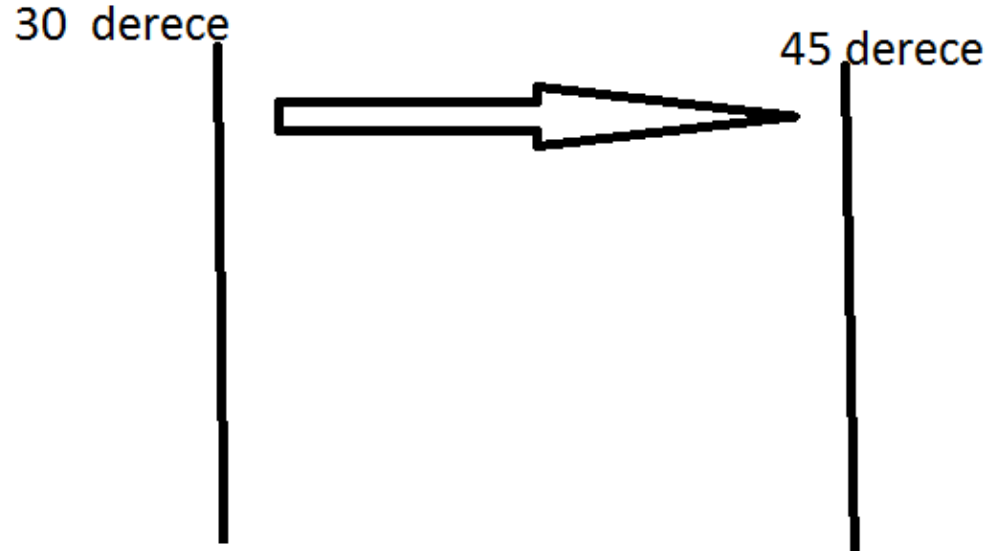
A4 KAGIDI



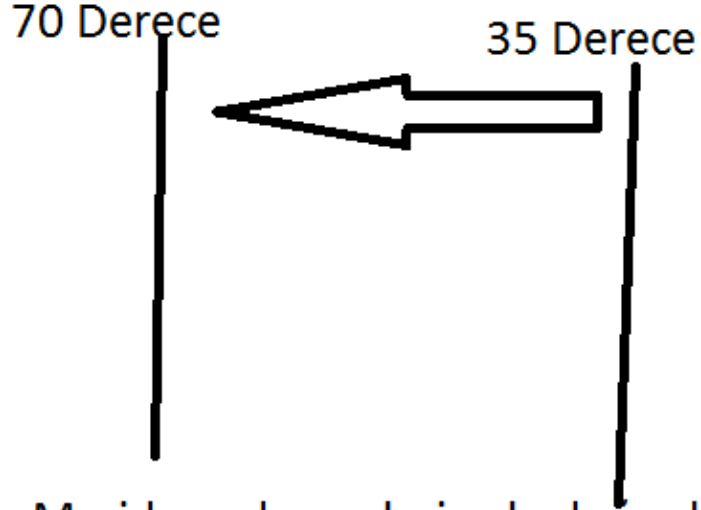




0 Derece meridyeni başlangıç meridyeni olduğuna göre 10 derece batı meridyeni ile 20 derece doğu meridyeni arasında yer alır.



Meridyen dereceleri sađa gidildikçe bydđne gre bu alan 30 derece ile 45 derece dođu meridyenleri arasında yer alır.

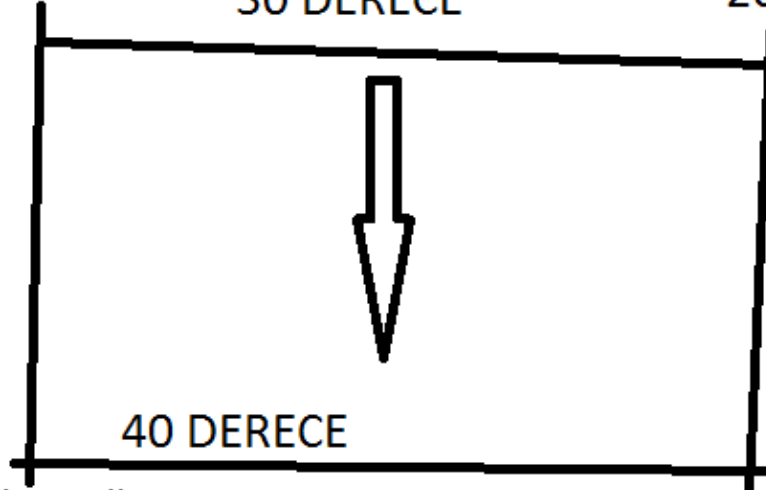


Meridyen dereceleri sola doğru büyüdüğüne göre 35 Derece ile 70 Derece Batı meridyenleri arasında yer alır.

10 DERECE

30 DERECE


20 DERECE

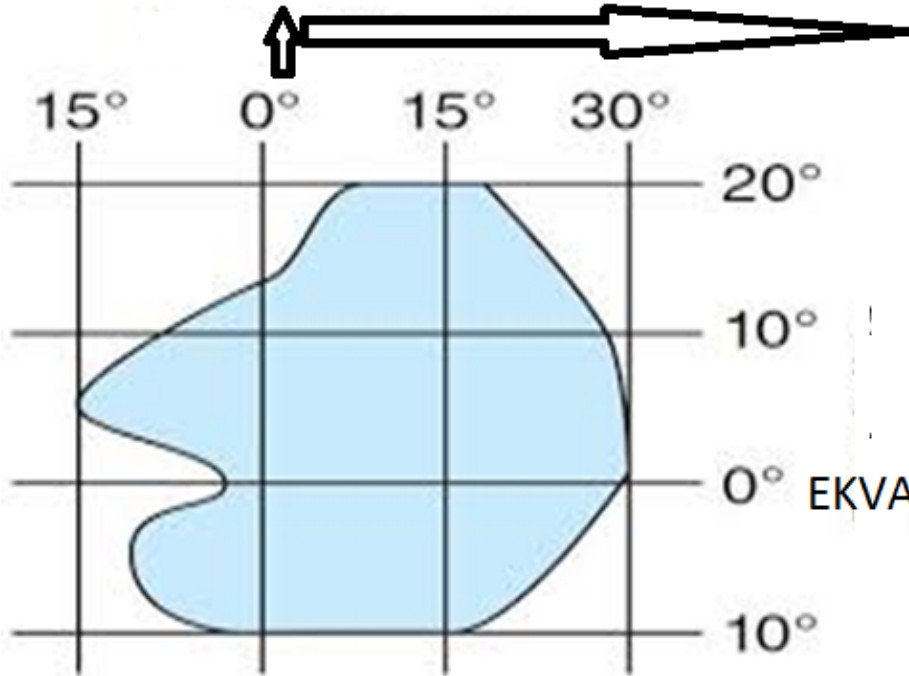


40 DERECE

Meridyenler sađa dođru byyor. 10derece ile 20 derece dođu meridyenleri arasında yer alır Paraleller ařađı gidildikçe byyor. gneyyarımkrede. 30 derece ile 40 derece gney paraleli arasında yer alır.

- TARALI ALANLARIN MATEMATİK KONUMU BELİRLENİRKEN EN YUKARI VE EN AŞAGIDAKİ PARALEL DAİRELERİ EN BATI VE EN DOĞUDAKİ
- MERİDYEN DAİRELERİDİR.





0 DERECE BAŞ MERİDYEN

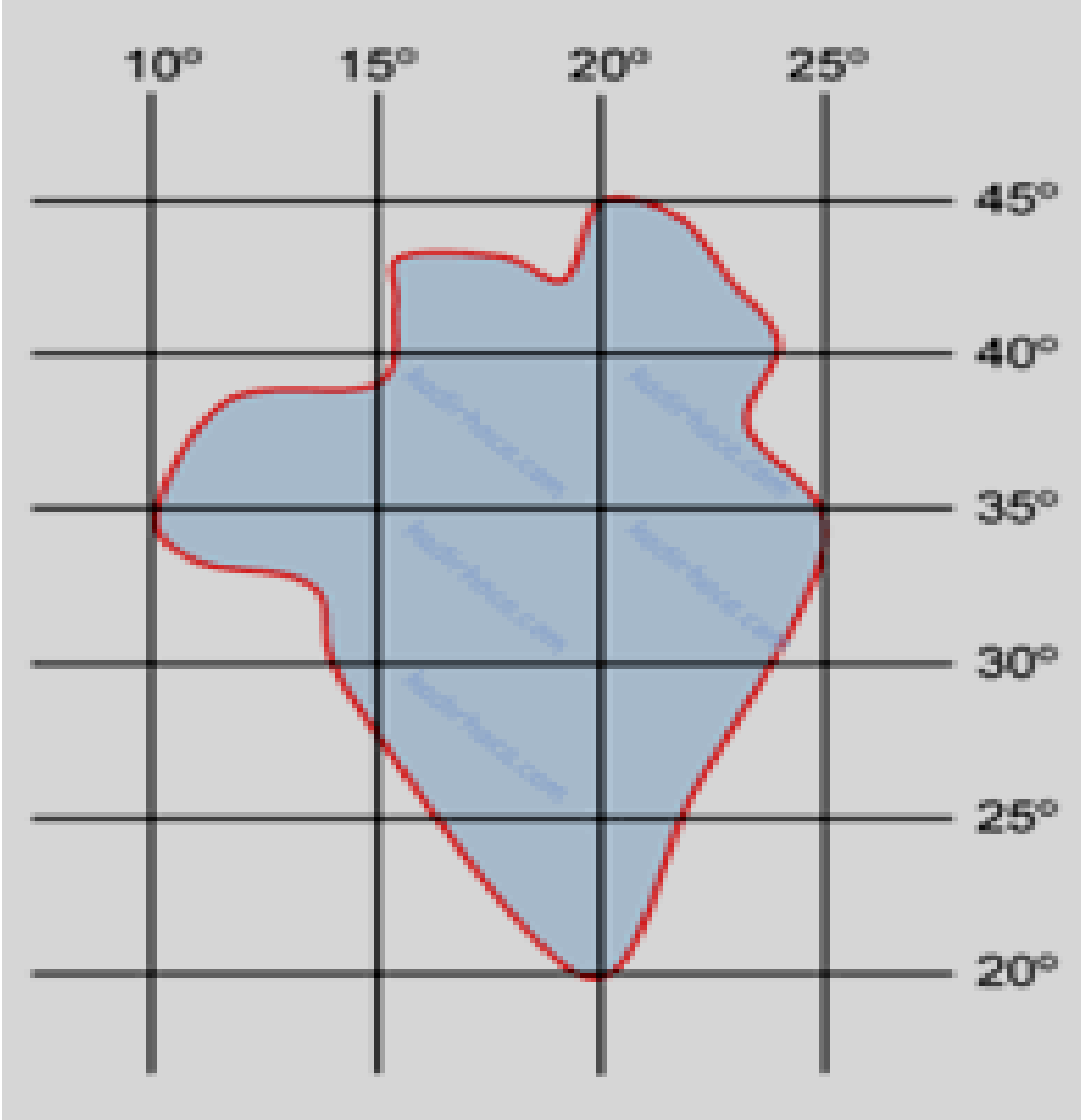
YATAY ÇİZGİ PARALEL TARALI ALAN
20 DERECE KUZEY
PARALELİ İLE 10 DERECE
GÜNEY PARALELİ ARASIN DADIR.

0° EKVATOR

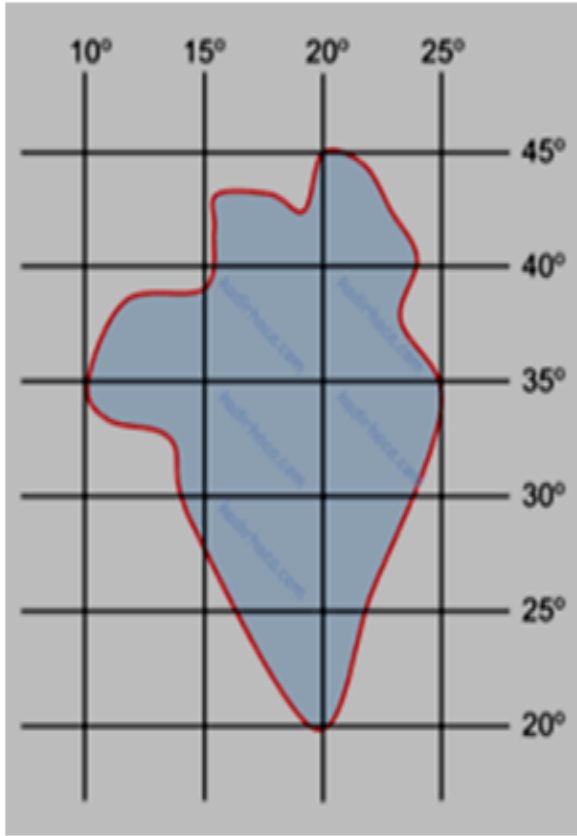
DİKEY ÇİZGİ MERİDYEN TARALI ALAN 15 DERECE BATI
MERİDYENİ İLE 30 DERECE DOĞU MERİDYENİ ARASINDA YER
ALIR.

- 0 DERECE PARALELİ AYNI ZAMANDA YATAY ÇİZGİ EKVATOR OLDUĞUNA GÖRE TARALI ALANIN YUKARI SINIRI KUZEY PARALELİ AŞAĞI SINIRI GÜNEY PARALELİDİR.

- DİKEY ÇİZGİ OLAN 0 DERECE MERİDYENİ BAŞMERİDYEN OLDUĞUNA GÖRE TARALI ALANIN BAŞLADIĞI DİKEY ÇİZGİ SINIRI BATI MERİDYENİ - TARALI ALANIN BİTTİĞİ DİKEY ÇİZGİ SINIRI DOĞU MERİDYENİ OLACAKTIR.



- 0 DERECE PARALELİ VEYA 0 DERECE MERİDYENİ OLMADIĞINA GÖRE PARALEL VE MERİDYENLERİN BÜYÜME YÖNLERİNE BAKILIR.



paralel yatay çizgi yukarı çıkıldıkça numaralar büyüyor.

20 derece ile 45 derece kuzey

paraleli arasında

meridyen dikey çizgi meridyen

numaraları sağa gidildikçe

büyüdüğüne göre doğu

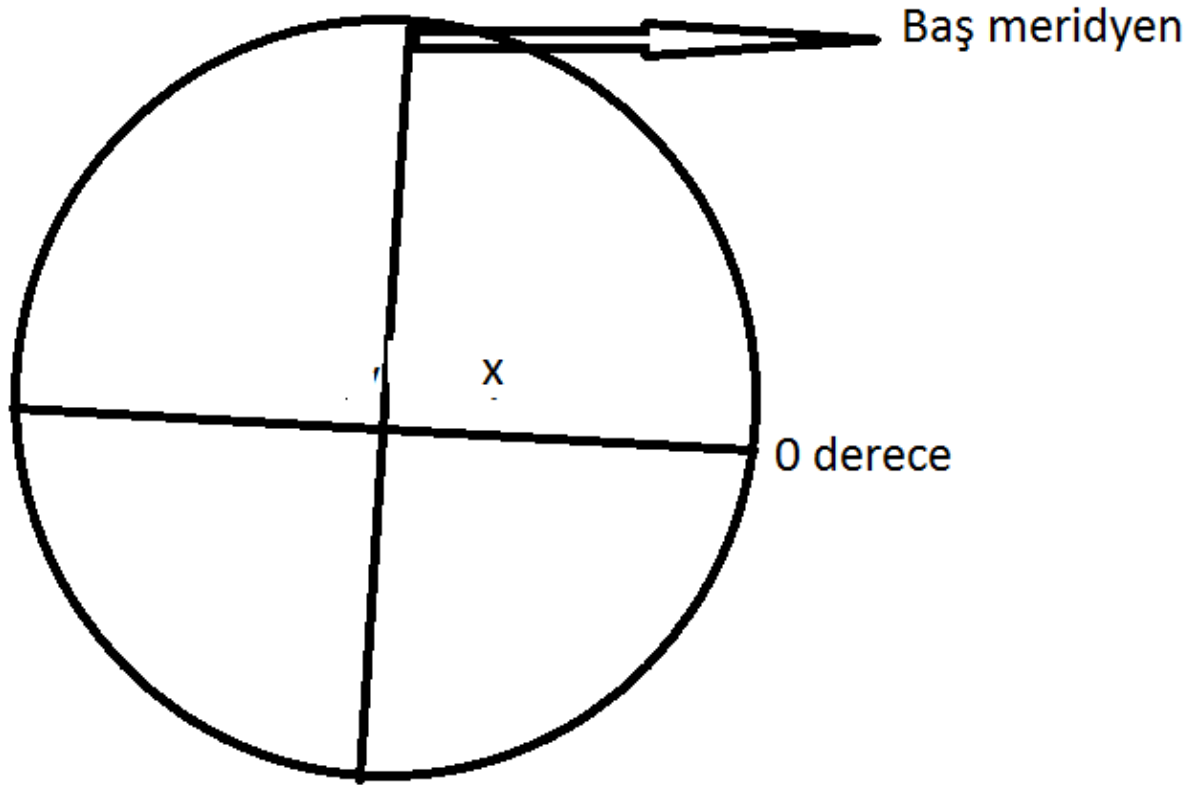
meridyeninde

10 derece ile 25 derece doğu

meridyeni arasında.

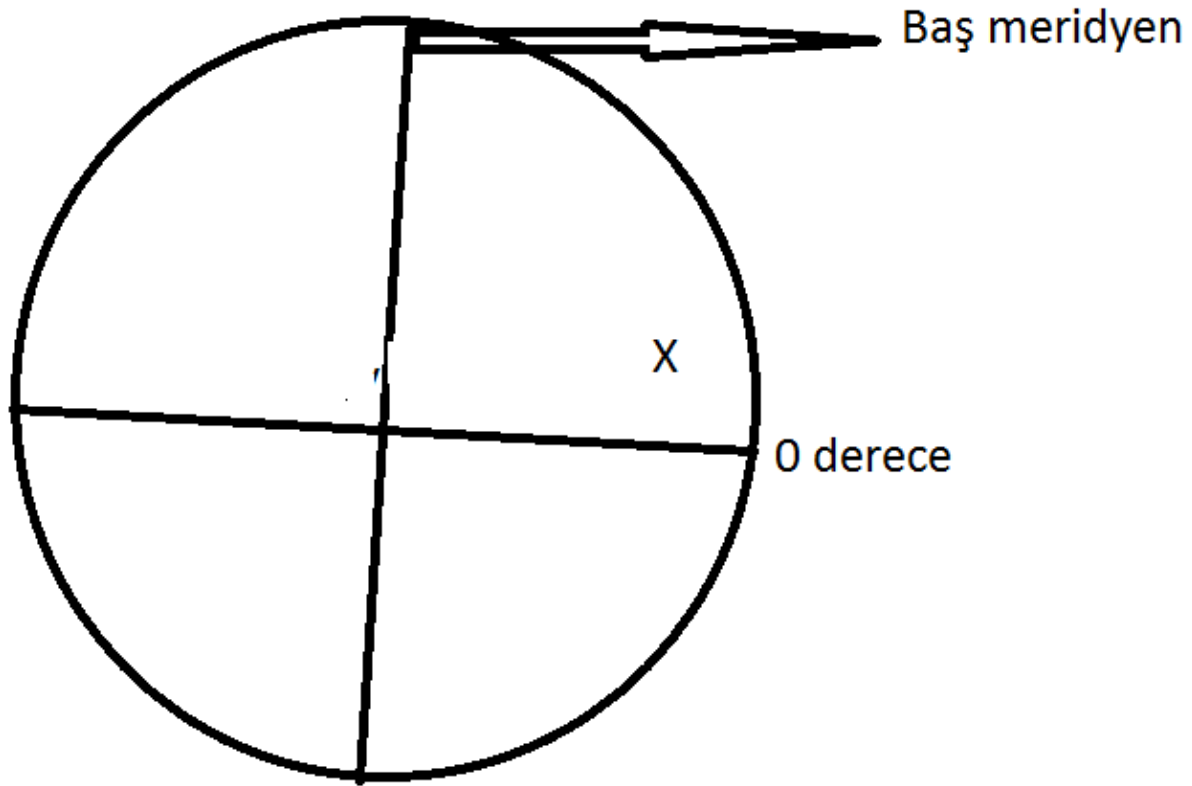
10 KUZEY PARALELİ İLE
20 DERECE DOĞU
MERİDYENİNİN
DÜNYA KÜRESİNDEKİ
YERİNİ GÖSTERİNİZ ?

- KUZZEY PARALELİ DEDİĐİNE GÖRE KUZZEYYARIMKÜREDE DOĐU MERİDYENİ DEDİĐİNE GÖRE DİKEY ÇİZGİ OLAN BAŞMERİDYENİN SAĐINDA OLMASI GEREKİR.



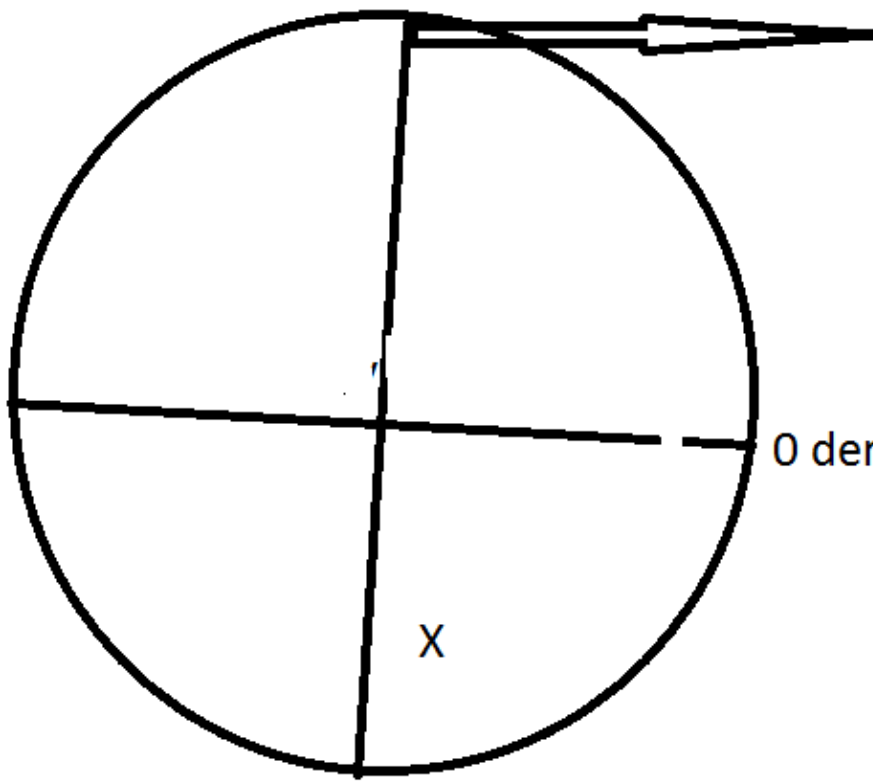
- 10 DERECE KUZEY
PARALELİ İLE 170
DERECE DOĞU
MERİDYENİNİN
DÜNYA KÜRESİNDEKİ
YERİNİ GÖSTERİNİZ

- KUZEY PARALELİ DEDIĐİNE GÖRE KUZEYYARIMKÜREDE DOĐU MERİDYENİ DEDIĐİNE GÖRE DİKEY ÇİZGİ OLAN BAŞMERİDYENİN SAĐINDA OLMASI GEREKİR.



- 70 DERECE GÜNEY
PARALELİ İLE 10 DERECE
DOĞU MERİDYENİNİN
YERİNİ DÜNYA
KÜRESİNDE GÖSTERİNİZ

- GÜNEY PARALELİ DEDIĐİNE GÖRE GÜNEY YARIMKÜREDE DOĐU MERİDYENİ DEDIĐİNE GÖRE DİKEY ÇİZGİ OLAN BAŞMERİDYENİN SAĐINDA OLMASI GEREKİR.



Baş meridyen

0 derece

x